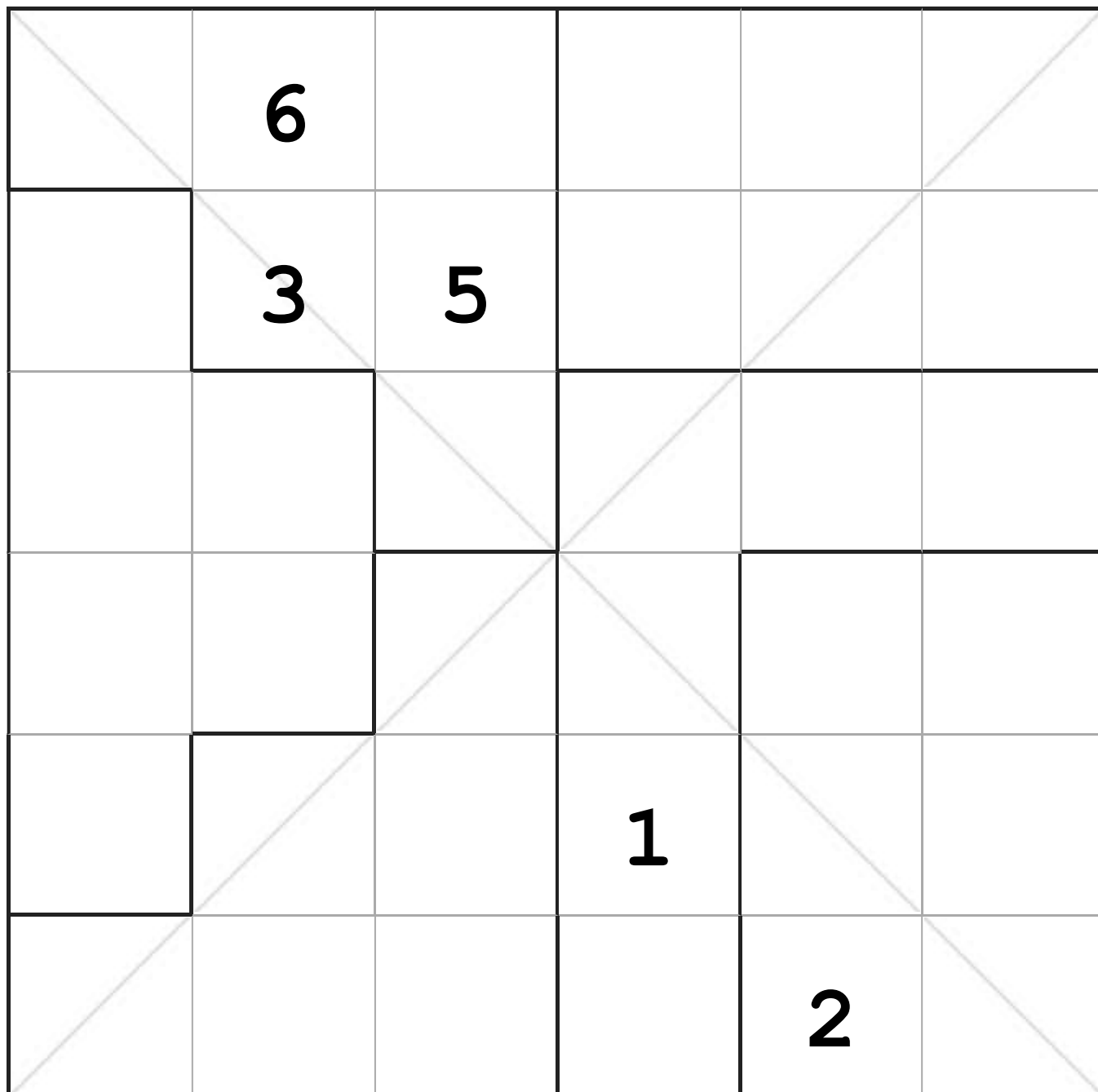


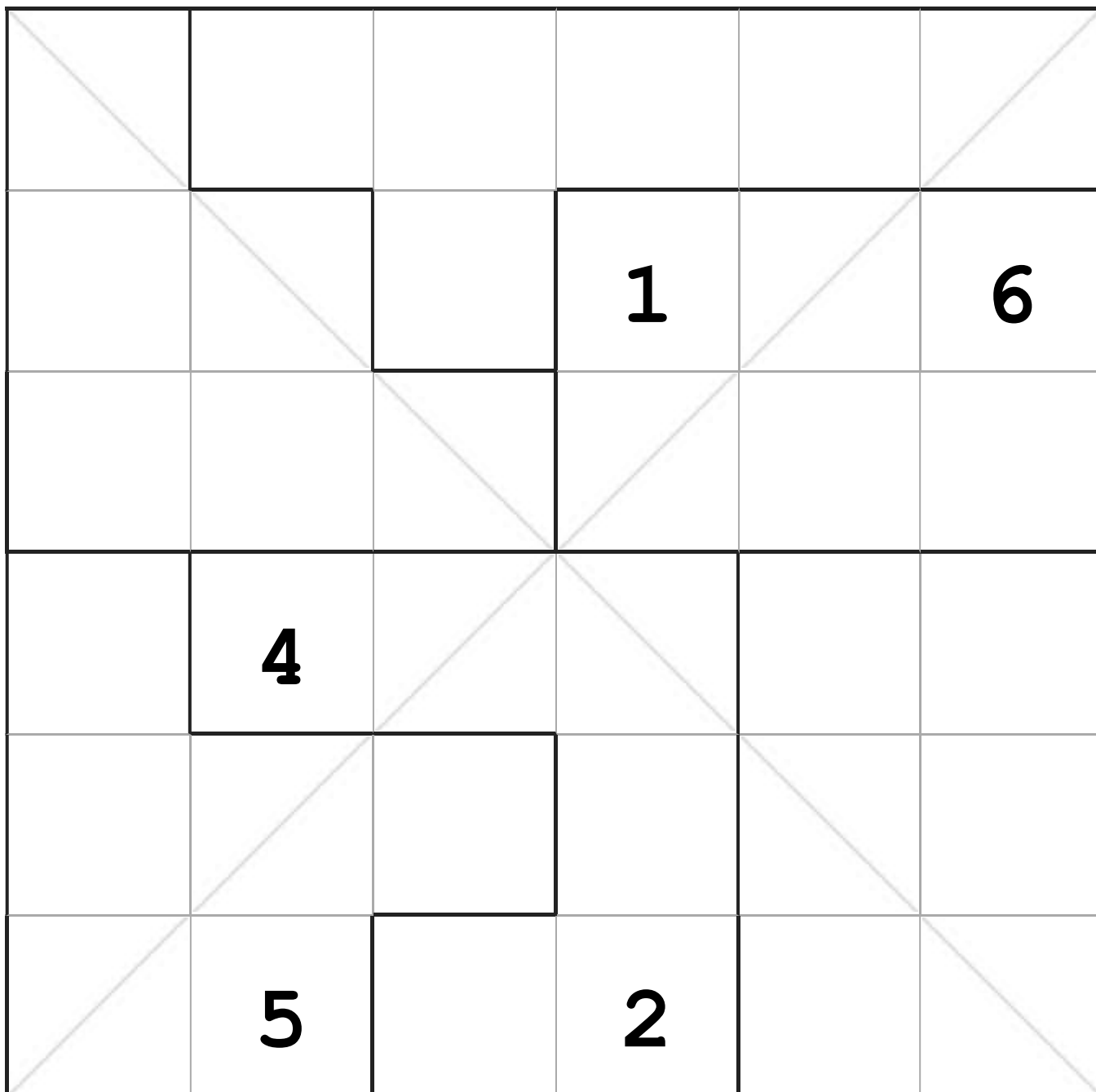
# 高级6x6不规则对角线数独—第11辑

不规则对角线数独 #1 题目序号:607001



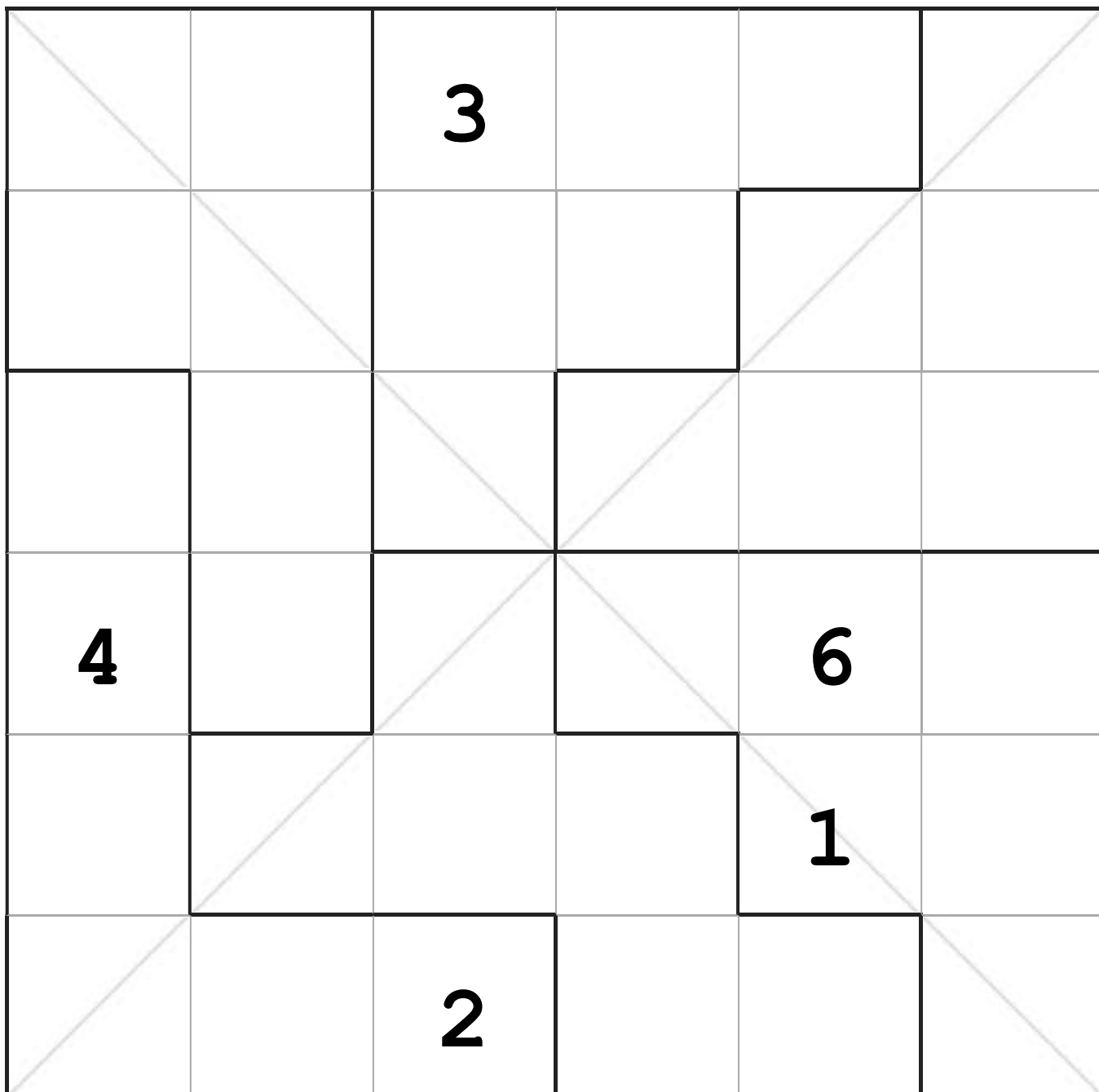
# 高级6x6不规则对角线数独—第11辑

## 不规则对角线数独 #2 题目序号:610110



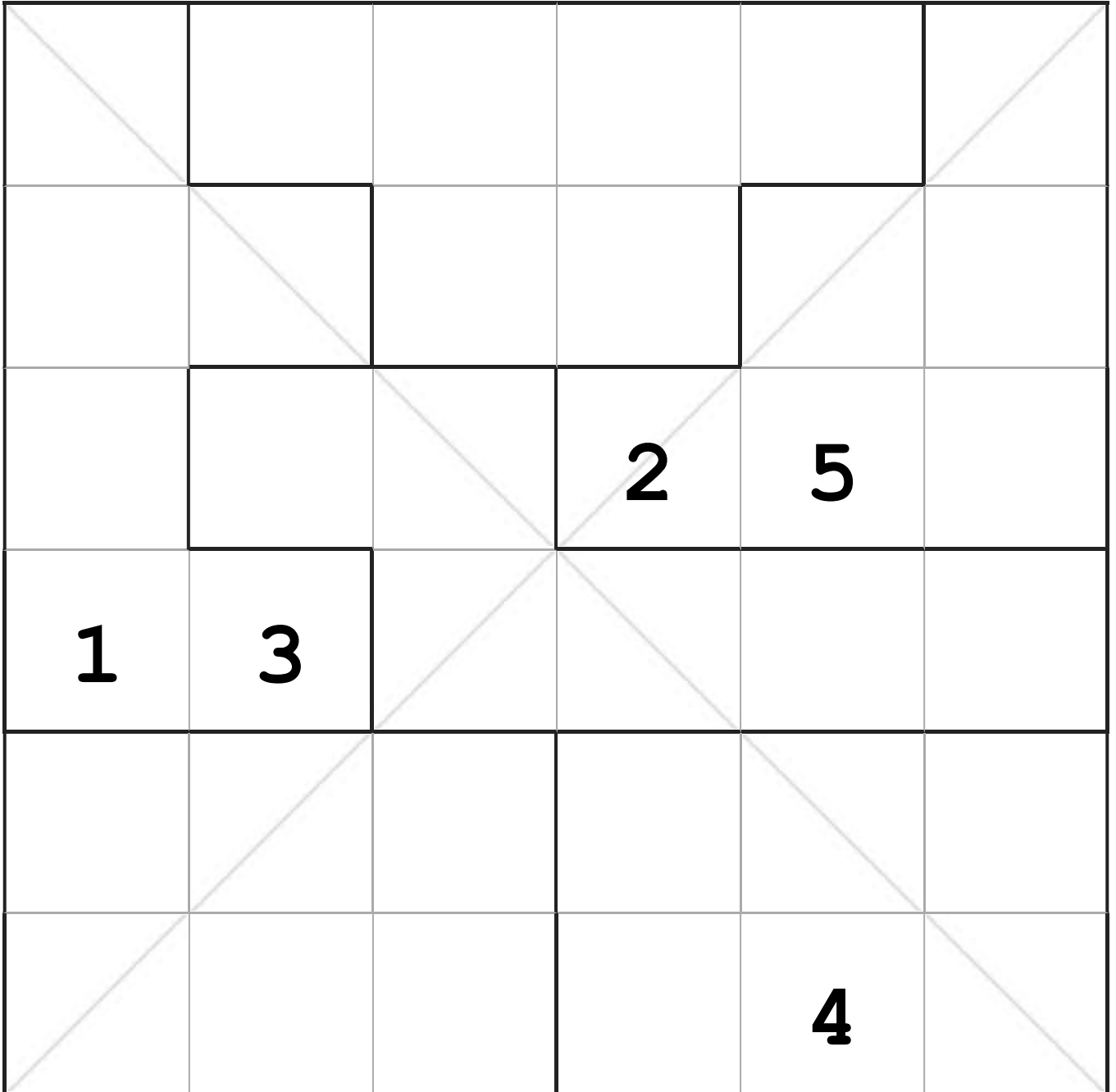
高级6x6不规则对角线数独—第11辑

不规则对角线数独 #3 题目序号:617495



# 高级6x6不规则对角线数独—第11辑

## 不规则对角线数独 #4 题目序号:621401



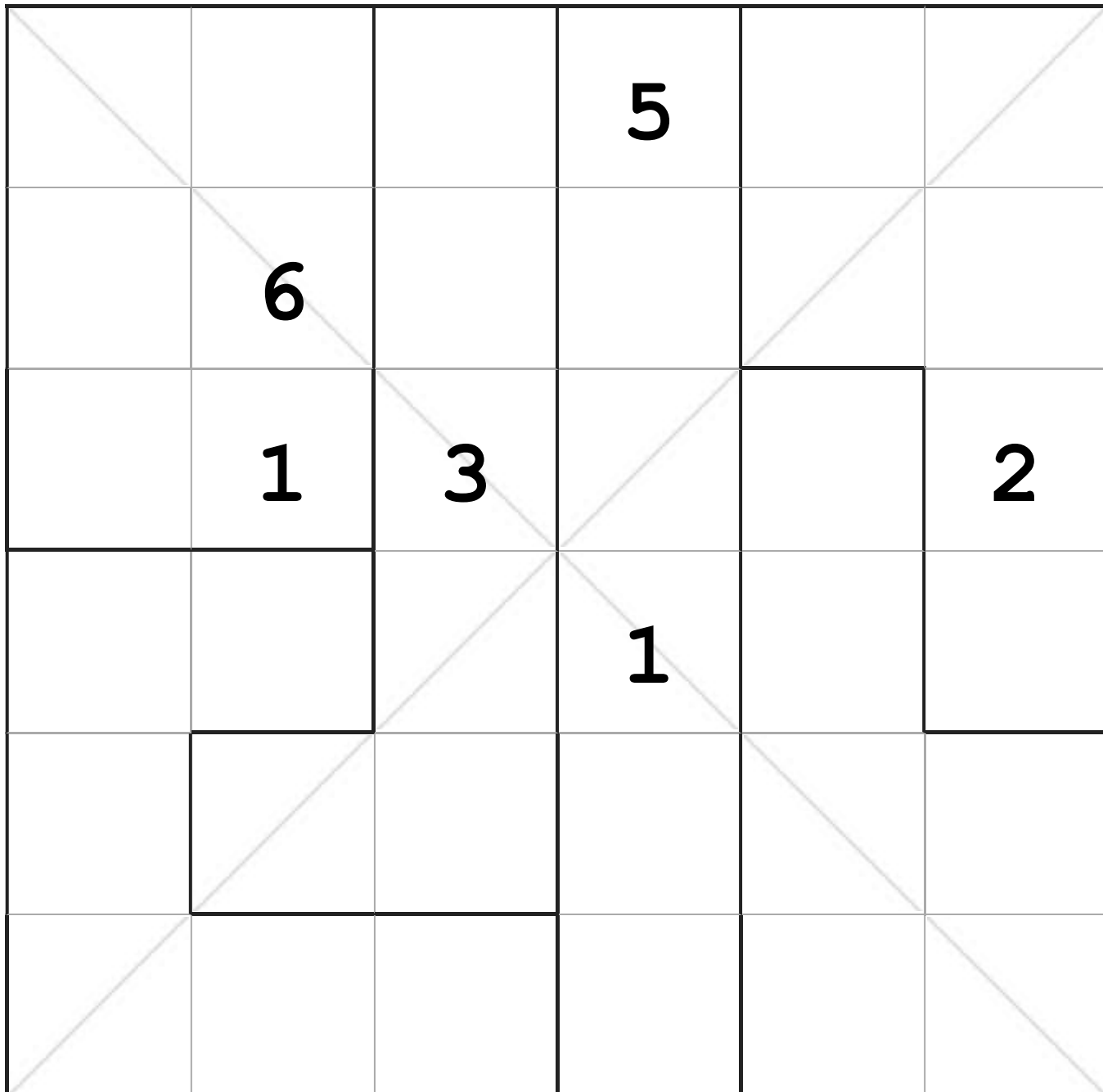
# 高级6x6不规则对角线数独—第11辑

不规则对角线数独 #5 题目序号:626224

		3		4	
1					
5					
			6		

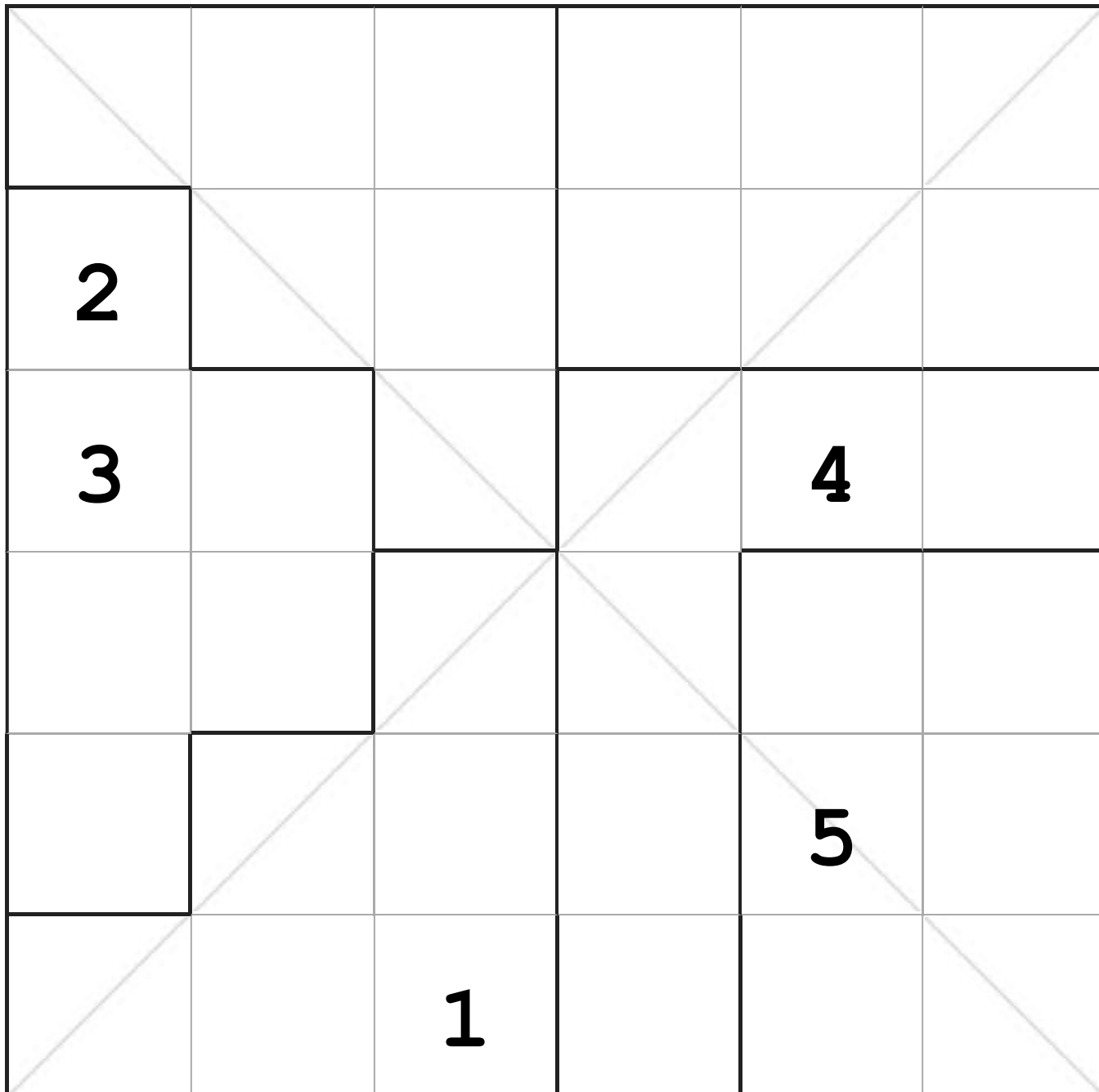
# 高级6x6不规则对角线数独—第11辑

不规则对角线数独 #6 题目序号:627838



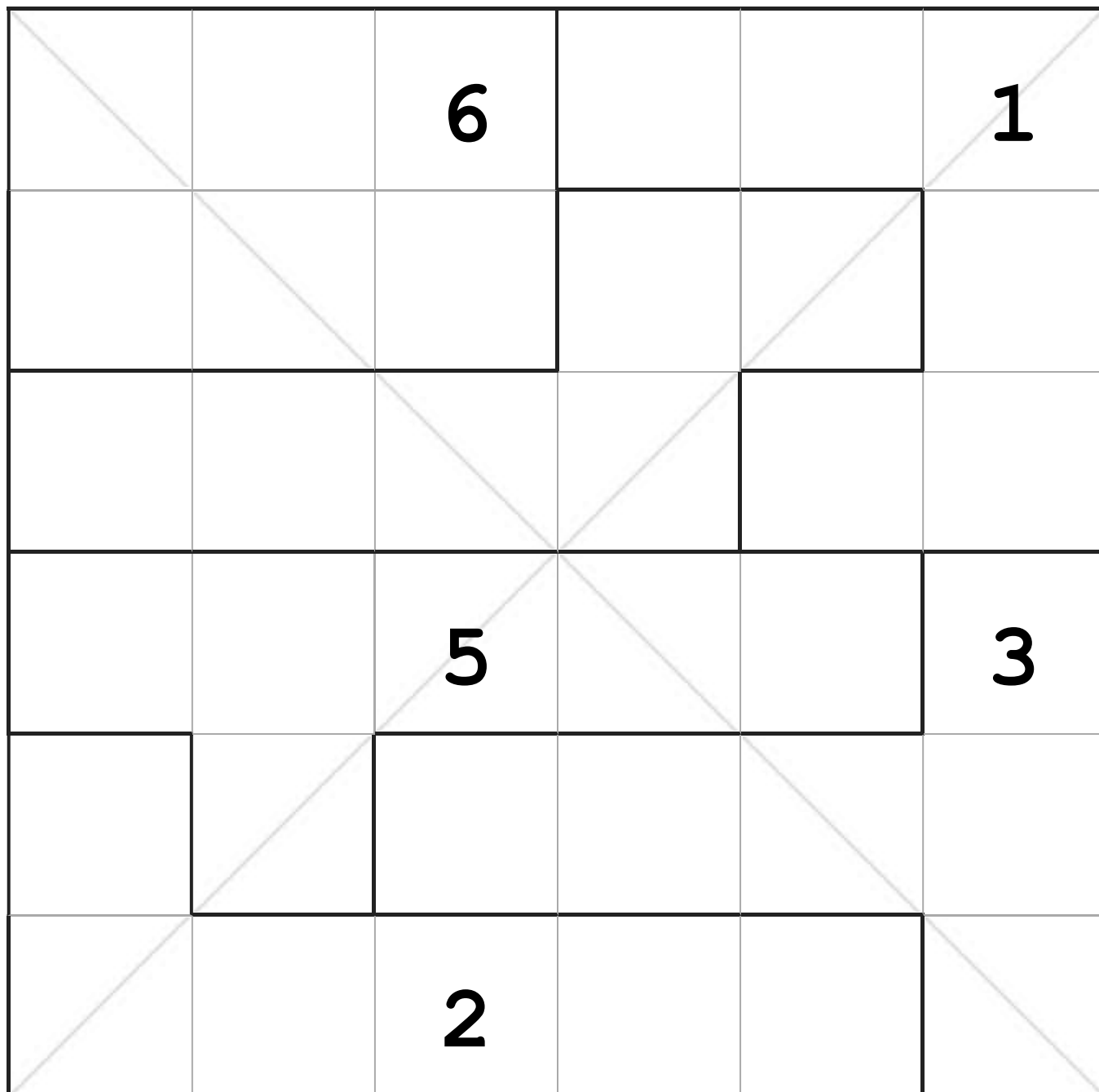
# 高级6x6不规则对角线数独—第11辑

不规则对角线数独 #7 题目序号:628386



# 高级6x6不规则对角线数独—第11辑

不规则对角线数独 #8 题目序号:631057





# 高级6x6不规则对角线数独—第11辑，答案

不规则对角线数独 #1 题目序号:607001

4	<b>6</b>	2	5	3	1
1	<b>3</b>	<b>5</b>	6	4	2
2	4	1	3	6	5
3	5	6	2	1	4
6	2	4	<b>1</b>	5	3
5	1	3	4	<b>2</b>	6

不规则对角线数独 #2 题目序号:610110

2	6	5	3	4	1
4	3	2	<b>1</b>	5	<b>6</b>
5	1	6	4	2	3
1	<b>4</b>	3	5	6	2
3	2	4	6	1	5
6	<b>5</b>	1	<b>2</b>	3	4

不规则对角线数独 #3 题目序号:617495

5	6	<b>3</b>	4	2	1
2	3	1	5	4	6
1	4	6	3	5	2
<b>4</b>	1	5	2	<b>6</b>	3
3	2	4	6	<b>1</b>	5
6	5	<b>2</b>	1	3	4

不规则对角线数独 #4 题目序号:621401

5	2	6	4	3	1
2	4	5	1	6	3
6	1	3	<b>2</b>	<b>5</b>	4
<b>1</b>	<b>3</b>	4	6	2	5
4	5	2	3	1	6
3	6	1	5	<b>4</b>	2

# 高级6x6不规则对角线数独—第11辑，答案

不规则对角线数独 #5 题目序号:626224

6	2	3	1	4	5
1	5	4	2	6	3
5	4	1	3	2	6
3	6	2	4	5	1
2	1	6	5	3	4
4	3	5	6	1	2

不规则对角线数独 #6 题目序号:627838

2	3	6	5	4	1
4	6	1	2	3	5
5	1	3	4	6	2
3	4	5	1	2	6
1	2	4	6	5	3
6	5	2	3	1	4

不规则对角线数独 #7 题目序号:628386

6	4	3	5	1	2
2	1	5	4	6	3
3	6	2	1	4	5
1	5	4	3	2	6
4	3	6	2	5	1
5	2	1	6	3	4

不规则对角线数独 #8 题目序号:631057

2	5	6	3	4	1
3	1	4	5	2	6
1	4	3	6	5	2
6	2	5	4	1	3
5	3	1	2	6	4
4	6	2	1	3	5